




العام الدراسي

2024-2023

الصف السابع

7



# الدراسات الاجتماعية

تدريبات علاجية - واجبات ( غير محلول )

نهاية الفصل الدراسي الثاني

اسم الطالب: .....

الصف: السابع

ملحوظة هامة: هذه الأسئلة إثرائية ولا تغني عن الكتاب المدرسي وهو  
المصدر الرئيس للتعلم



قسم	الدراسات الاجتماعية	الصف السابع	الأسبوع	الأول
الوحدة	الأولى - ( الموارد والأنشطة الاقتصادية ) درس 1: النقل والمواصلات	التاريخ	11-8 / 1 / 2024 م	

أولاً: الاختيار من متعدد:

اختر الإجابة الصحيحة بوضع علامة ( x ) في المربع المقابل لها:-

"عملية انتقال الأفراد والبضائع من مكان إلى آخر" يشير التعريف السابق  
الى مفهوم:  
النقل

1

☐

التجارة الداخلية

☐

التجارة الخارجية

☐

الهجرات الوافدة

☐

أي من الأنهار الآتية يوجد في قارة إفريقيا؟

2

النيل

☐

الراين

☐

الأمازون

☐

المسيبي

☐

أي خطوط الأنابيب التالية يمتد في دولة قطر؟

3

سوميد

☐

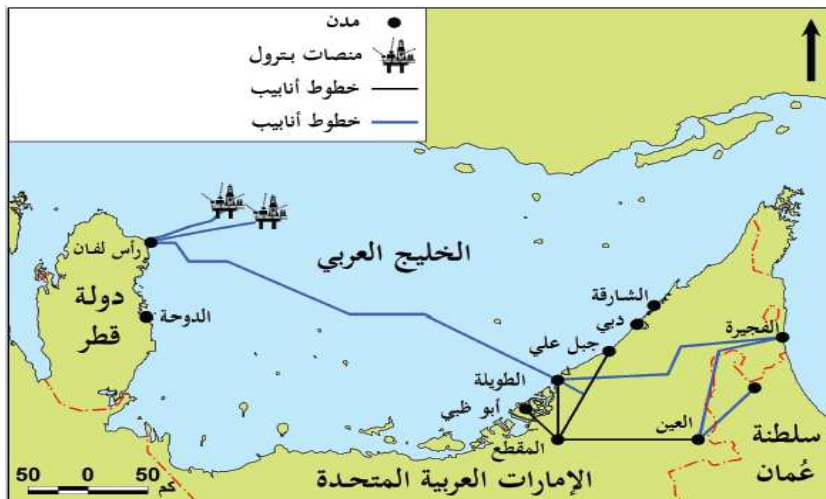
دولفين

☐

بترولين

☐

التابلاين

☐




أرخص أنواع النقل:

5

الجوي

☐

الأنابيب

☐

المائي

☐

السكك الحديدية

☐

ثانياً: الأسئلة المقالية:

أجب عن الآتي:

1- عدد أنواع النقل المائي.

- 1-.....
- 2-.....
- 3-.....

2- وضح أسباب عدم صلاحية معظم أنهار العالم للملاحة.

- 1-.....
- 2-.....
- 3-.....

3- وضح دور النقل البحري في نقل البضائع.

- 1-.....
- 2-.....
- 3-.....



قسم	الدراسات الاجتماعية	الصف السابع	الأسبوع	الثاني
الوحدة	الأولى - ( الموارد والأنشطة الاقتصادية ) درس 1: النقل والمواصلات	التاريخ	18-14 / 1 / 2024 م	

أولاً: الاختيار من متعدد:

اختر الإجابة الصحيحة بوضع علامة ( x ) في المربع المقابل لها:-

أي خطوط الأنابيب التالية يمتد في دولة قطر؟

1

سوميد

☐

دولفين

☐

بترولين

☐

التابلاين

☐

أرخص أنواع النقل:

2

الجوي

☐

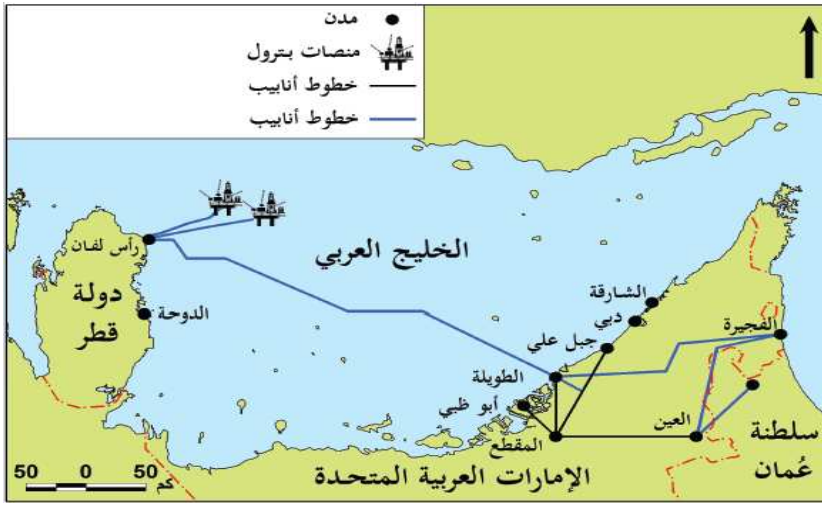
الأنابيب

☐

المائي

☐

السكك الحديدية

☐


١- وضح مميزات السكك الحديدية.

.....-1

.....-2

.....-3



## ٢- ما أهمية النقل؟

- 1-.....
- 2-.....
- 3-.....

## ٣- بم تفسر عدم صلاحية بعض الأنهار للملاحة النهرية؟

- 1-.....
- 2-.....
- 3-.....

## ٤- بم تفسر يتميز النقل الجوي عن باقي أنواع النقل؟

- 1-.....
- 2-.....
- 3-.....

## ٥- ما المشكلات البيئية الناتجة عن التطور السريع لوسائل النقل والمواصلات؟

- 1-.....
- 2-.....
- 3-.....



قسم	الدراسات الاجتماعية	الصف السابع	الأسبوع	الثالث
الوحدة	الاولى - ( الموارد والأنشطة الاقتصادية ) درس 2: التجارة	التاريخ	25-21 / 1 / 2024 م	

أولاً: الاختيار من متعدد:

اختر الإجابة الصحيحة بوضع علامة ( x ) في المربع المقابل لها:

"تبادل السلع والخدمات بين دول العالم على شكل صادرات وواردات"،  
يشير التعريف السابق إلى مفهوم التجارة:

1

العالمية

☐

الدولية

☐

الداخلية

☐

الخارجية

☐

"تبادل السلع والخدمات داخل حدود الدولة"، يشير التعريف إلى مفهوم التجارة:

2

الدولية

☐

الداخلية

☐

العالمية

☐

الخارجية

☐

أكثر دول العالم استقبلاً للصادرات القطرية هي:

3

تركيا

☐

ماليزيا

☐

اليابان

☐

كوريا الجنوبية

☐



## ثانياً: الأسئلة المقالية:

أجب عن الآتي:

### 1- عدد مقومات التجارة.

- 1-.....
- 2-.....
- 3-.....

### 2- وضح أهمية التجارة.

- 1-.....
- 2-.....
- 3-.....

### 3- قارن بين التجارة الداخلية والتجارة الخارجية من حيث المفهوم:

	التجارة الداخلية
	التجارة الخارجية



4- اذكر أمثلة على مكونات التجارة الدولية التالية.

	مصادر الطاقة
	السلع الغذائية
	السلع الصناعية
	المحاصيل
	السلع المعدنية





قسم	الدراسات الاجتماعية	الصف السابع	الأسبوع	الرابع
الوحدة	الثانية - ( الحضارة الإسلامية في الدولة العباسية ) درس 1: مظاهر السياسية والاقتصادية	التاريخ	1/28 - 2/1 / 2024 م	

أولاً: الاختيار من متعدد:

اختر الإجابة الصحيحة بوضع علامة ( x ) في المربع المقابل لها:-

1 ظهر منصب قاضي القضاة في عصر الخليفة:

المأمون ☐

المعتصم ☐

هارون الرشيد ☐

أبي جعفر المنصور ☐

2 ازدهرت صناعة ورق البردي في:

مصر ☐

العراق ☐

بلاد فارس ☐

بلاد الشام ☐

3 الجهاز الإداري في الدولة العباسية الشبيه بالوزارات هو:

العسس ☐

القضاء ☐

الواليات ☐

الدواوين ☐



الدائرة الرسمية التي تتولى الإشراف على مراسلات الخليفة:

4

الجيش

☐

البريد

☐

الشرطة

☐

الأوقاف

☐

الشخص الذي يتولى إدخال الناس على الخليفة:

6

الوالي

☐

الحاجب

☐

الكاتب

☐

الوزير

☐

ثانياً: الأسئلة المقالية:

أجب عن الآتي:

1- بم تفسر ازدهار الحياة الاقتصادية في الدولة العباسية؟

.....-1

.....-2

.....-3



## 2- وضح نتائج اهتمام العباسيين بالتجارة البرية والبحرية.

- 1-.....
- 2-.....
- 3-.....

## 3- عدد أسماء المدن التجارية في العصر العباسي.

- 1-.....
- 2-.....
- 3-.....

## 4- بم تفسر لعب التجار المسلمين دور في نشر الإسلام؟

- 1-.....
- 2-.....
- 3-.....

## 5- دلل على اهتمام العباسيين بالدواوين.

- 1-.....
- 2-.....
- 3-.....



6- بم تفسر أهمية الشرطة والعسس في الدولة العباسية؟

- 1-.....
- 2-.....
- 3-.....

7- عدد أهم الأسلحة في الجيش العباسي.

- 1-.....
- 2-.....
- 3-.....



قسم	الدراسات الاجتماعية	الصف السابع	الأسبوع	الخامس
الوحدة	الثانية - ( الحضارة الإسلامية في الدولة العباسية ) درس 2: مظاهر الاجتماعية والثقافية	التاريخ	7-4 / 2 / 2024 م	

## أولاً: الاختيار من متعدد:

اختر الإجابة الصحيحة بوضع علامة ( X ) في المربع المقابل لها:-

1 أي الطبقات الآتية تمثل الطبقة العليا في المجتمع الإسلامي؟

الجند ☐الخلفاء ☐العلماء ☐أصحاب الحرف ☐

2 الخليفة الذي شيد قصر الذهب في العصر العباسي:

المعتصم ☐المأمون ☐هارون الرشيد ☐أبو جعفر المنصور ☐

3 يعتبر الحسن بن الهيثم مؤسس علم:

الفلك ☐الكيمياء ☐البصريات ☐الرياضيات ☐



## ثانياً: الأسئلة المقالية:

أجب عن الآتي:

1- ما النتائج المترتبة على توسُّع صناعة الورق في الدولة العباسية؟

- .....-1
- .....-2
- .....-3

2- بم تفسر اهتمام المسلمين في العصر العباسي بعلم الجغرافيا؟

- .....-1
- .....-2
- .....-3

3- دلل على اهتمام الخلفاء العباسيين بالزراعة.

- .....-1
- .....-2
- .....-3



قسم	الدراسات الاجتماعية	الصف السابع	الأسبوع	السادس
الوحدة	الثانية – ( الحضارة الإسلامية في الدولة العباسية ) درس 2: مظاهر الاجتماعية و الثقافية	التاريخ	15-11 / 2 / 2024 م	

## أولاً: الاختيار من متعدد:

اختر الإجابة الصحيحة بوضع علامة ( X ) في المربع المقابل لها:-

أي من العلماء المسلمين صاحب كتاب الحاوي:



الرازي

☐

الفارابي

☐

ابن سينا

☐

الخوارزمي

☐

الخليفة الذي شيد قصر الذهب في العصر العباسي:

☐

المأمون

☐

المعتصم

☐

هارون الرشيد

☐

أبو جعفر المنصور

☐



## ثانياً: الأسئلة المقالية:

أجب عن الآتي:

1- بم تفسر ازدهار الحضارة الإسلامية في الدولة العباسية؟

.....-1

.....-2

.....-3

2- بم تفسر ازدهار الحياة الثقافية والعلمية في الدولة العباسية؟

.....-1

.....-2

.....-3

3- اذكر طبقات المجتمع بالعصر العباسي.

.....-1

.....-2

.....-3





قسم	الدراسات الاجتماعية	الصف السابع	الأسبوع	السابع
الوحدة	الثالثة - ( التغير الاجتماعي ) درس 1: أنواع التغير الاجتماعي في المجتمع القطري و عوامله	التاريخ	2024 / 2/22-18 م	

## أولاً: الاختيار من متعدد:

اختر الإجابة الصحيحة بوضع علامة ( X ) في المربع المقابل لها:

"التحول في الطريقة التي يعيش فيها أفراد المجتمع" يشير التعريف السابق إلى مفهوم التغير:

1

الكمي

☐

الثقافي

☐

النوعي

☐

التكنولوجي

☐

يعتبر الدور الأبرز في إحداث التغيرات بالمجتمع القطري للعامل:

السكاني

☐

التعليمي

☐

الاجتماعي

☐

الاقتصادي

☐

## ثانياً: الأسئلة المقالية:

أجب عن الآتي:

1- عدد عوامل التغير الاجتماعي في المجتمع القطري.

-1

-2

-3



## 2- بم تفسر لعب التطور الاقتصادي الدور الأبرز في إحداث التغيرات في المجتمع

القطري؟

- 1-.....
- 2-.....
- 3-.....

## 3- ما النتائج المترتبة على تنوع الأنشطة الاقتصادية في المجتمع القطري؟

- 1-.....
- 2-.....
- 3-.....

## 4- عدد مظاهر التغير الاجتماعي في المجتمع القطري.

- 1-.....
- 2-.....
- 3-.....



قسم	الدراسات الاجتماعية	الصف السابع	الأسبوع	التاسع
الوحدة	الوحدة الرابعة: التغير الاجتماعي الدرس الثاني: مظاهر التغير الاجتماعي	التاريخ	3-7 / 3 / 2024 م	
الاسم		الشعبة	1 2	

## أولاً: الاختيار من متعدد:

اختر الإجابة الصحيحة بوضع علامة (x) في المربع المقابل لها:-

بناء مجتمع من أفراد مبدعين ومبتكرين على وعي بما حولهم، وعلى اطلاع  
بالثقافات العالمية، من أهداف:

كتارا ☐أسباير ☐اللؤلؤة ☐لوسيل ☐

أي الآتي من اختصاصات إدارة المكتبات العامة والتراث:

الصيانة للمواقع الأثرية ☐تنمية القوى البشرية المثقفة ☐تنظيم الفعاليات الوطنية والتراثية ☐بناء مجتمع من أفراد مبدعين ومبتكرين ☐

تعتبر حماية وتوثيق التراث القطري من أهداف:

الحي الثقافي (كتارا) ☐متحف قطر الوطني ☐مكتبة قطر الوطنية ☐إدارة المكتبات العامة والتراث ☐



التغير في القيم والعادات والتقاليد من مظاهر التغير:



المهني

☐

الثقافي

☐

السكاني

☐

الحضري

☐

ثانياً: الأسئلة المقالية: أجب عن الآتي:

1- عدد جهود دولة قطر في الحفاظ على الهوية القطرية.

.....-1

.....-2

.....-3

2- وضح دور (الأهداف) كل من (متحف قطر الوطني وإدارة التراث والهوية و  
الحي الثقافي كتارا) في الحفاظ على الهوية القطرية.

أهدافها	المؤسسة
	متحف قطر الوطني
	إدارة التراث والهوية
	الحي الثقافي (كتارا)



### 3- وضح اختصاصات إدارة المكتبات العامة والتراث بدولة قطر.

- 1-.....
- 2-.....
- 3-.....



قسم	الدراسات الاجتماعية	الصف السابع	الأسبوع	العاشر
الوحدة	الوحدة الرابعة: نحن والبيئة الدرس الأول: التلوث البيئي	التاريخ	2024 / 3/14-11 م	
الاسم		الشعبة	2 1	

## أولاً: الاختيار من متعدد:

اختر الإجابة الصحيحة بوضع علامة (x) في المربع المقابل لها:-

يعتبر من الأسباب البشرية التي تؤدي إلى تلوث الهواء:

1

دخنة المصانع

الرماد البركاني

الدخان البركاني

الانفجارات البركانية

يؤدي استخدام مركبات الكلوروفلوروكربون إلى تلوث:

2

الهواء

التربة

البحار

الأنهار



## ثانياً: الأسئلة المقالية: أجب عن الآتي:

### 1- عرف التلوث البيئي؟

- 1.....
- 2.....
- 3.....

### 2- عدد أنواع التلوث البيئي.

- 1.....
- 2.....
- 3.....

### 3- وضح أسباب تلوث الهواء.

- 1.....
- 2.....
- 3.....

### 4- وضح الحلول المقترحة لمواجهة مشكلة تلوث الهواء.

- 1.....
- 2.....
- 3.....



قسم	الدراسات الاجتماعية	الصف السابع	الأسبوع	الحادي عشر
الوحدة	الوحدة الرابعة: نحن والبيئة الدرس الأول: التلوث البيئي	التاريخ	11-14/3 / 2024 م	
الاسم		الشعبة	1 2	

## أولاً: الاختيار من متعدد:

اختر الإجابة الصحيحة بوضع علامة (x) في المربع المقابل لها:-

تتعرض مياه البحار للتلوث بسبب:

1

قطع الغابات

☐

الثورات البركانية

☐

إلقاء مخلفات المدن

☐

استخدام الأسمدة الكيماوية

☐

خليط من الدخان والضباب يتكون فوق المدن:

2

طبقة الأوزون

☐

الضباب الدخاني

☐

المطر الحمضي

☐

الأعاصير المدارية

☐

## ثانياً: الأسئلة المقالية: أجب عن الآتي:

1- وضح أسباب تلوث المياه.

.....-1

.....-2

.....-3





## 2- بم تفسر تلوث المياه بالنفط؟

- 1-.....
- 2-.....
- 3-.....

## 3- اقترح حلولاً لمواجهة تلوث المياه؟

- 1-.....
- 2-.....
- 3-.....

## 4- بم تفسر تعرض التربة للتلوث؟

- 1-.....
- 2-.....
- 3-.....

## 5- اقترح حلولاً لمواجهة تلوث التربة؟

- 1-.....
- 2-.....
- 3-.....



قسم	الدراسات الاجتماعية	الصف السابع	الأسبوع	الثاني عشر
الوحدة	الوحدة الرابعة: نحن والبيئة الدرس الثاني: الجهود الدولية لمكافحة التلوث البيئي		التاريخ	2024 / 3/28-24 م
الاسم			الشعبة	1 2

## أولاً: الاختيار من متعدد:

اختر الإجابة الصحيحة بوضع علامة (x) في المربع المقابل لها:-

هدفت اتفاقية فيينا الدولية البيئية عام 1985 م إلى:

1

حماية طبقة الأوزون ☐مكافحة تغير المناخ ☐منع التلوث من السفن ☐الحد من انتشار الأسلحة النووية ☐

خليط من الدخان والضباب يتكون فوق المدن:

2

طبقة الأوزون ☐الضباب الدخاني ☐المطر الحمضي ☐الأعاصير المدارية ☐

المعاهدة التي تهدف للحد من إنتاج واستخدام الملوثات العضوية الثابتة:

3

فيينا ☐بازل ☐باريس ☐ستوكهولم ☐



## ثانياً: الأسئلة المقالية: أجب عن الآتي:

### 1- وضح تأثير التلوث على البيئة.

.....-1

.....-2

.....-3

### 2- عدد الاتفاقيات والمعاهدات البيئية الدولية مع ذكر الهدف منها.

الهدف:	اسم الاتفاقية:
الهدف:	اسم الاتفاقية:
الهدف:	اسم الاتفاقية:
الهدف:	اسم الاتفاقية:



### 3- اذكر جهود دولة قطر في حماية البيئة.

- 1-.....
- 2-.....
- 3-.....

### 4- بم تفسر أهمية زيادة المساحة الخضراء في دولة قطر.

- 1-.....
- 2-.....
- 3-.....

### 5- بم تفسر تبذل دولة قطر جهوداً كبيرة في المحافظة على البيئة.

- 1-.....
- 2-.....
- 3-.....



قسم	الدراسات الاجتماعية	الصف السابع	الأسبوع	الثالث عشر
الوحدة	الوحدة الخامس: الاخطار التي واجهت الدولة العباسية الدرس الأول: الخطر الصليبي	التاريخ	3/13-4/4 / 2024 م	
الاسم		الشعبة	1 2	

## أولاً: الاختيار من متعدد:

اختر الإجابة الصحيحة بوضع علامة (x) في المربع المقابل لها:-

بدأت الحملات الصليبية على المشرق الإسلامي منذ أواخر القرن الهجري:

1

الثالث

الرابع

الخامس

السادس

الحملة الصليبية التي اتجهت إلى القسطنطينية بعد قيام ثورة فيها:

2

الثالثة

الرابعة

الخامسة

السادسة

السلطان الذي تنازل للصليبيين عن بيت المقدس بإرادته هو:

3

الكامل

العادل

الصالح

نور الدين محمود



## ثانياً: الأسئلة المقالية: أجب عن الآتي:

### 1- وضح أسباب ودوافع الحملات الصليبية.

- 1-.....
- 2-.....
- 3-.....

### 2- بم تفسر دعوة البابا للأوروبيين للسيطرة على مدينة القدس؟

- 1-.....
- 2-.....
- 3-.....

### 3- وضح كانت الأوضاع الاقتصادية السيئة في أوروبا سبباً من أسباب الحملات الصليبية.

- 1-.....
- 2-.....
- 3-.....



قسم	الدراسات الاجتماعية	الصف السابع	الأسبوع	الخامس عشر
الوحدة	الوحدة الخامس: الاخطار التي واجهت الدولة العباسية الدرس الأول: الخطر الصليبي	التاريخ	2024 / 4 / 18-14 م	
الاسم		الشعبة	2 1	

## أولاً: الاختيار من متعدد:

اختر الإجابة الصحيحة بوضع علامة (x) في المربع المقابل لها:-

بدأت الحملات الصليبية على المشرق الإسلامي منذ أواخر القرن الهجري:

1

الثالث

الرابع

الخامس

السادس

السلطان الذي تنازل للصليبيين عن بيت المقدس بإرادته هو:

2

الكامل

العادل

الصالح

نور الدين محمود



3

فشلت الحملة الصليبية الخامسة في تحقيق أهدافها بعد الهزيمة من:

الأمويين

☐

العباسيين

☐

الأيوبيين

☐

المماليك

☐

ثانياً: الأسئلة المقالية: أجب عن الآتي:

1- وضح نتائج معركة حطين.

.....-1

.....-2

.....-3

2- ما النتائج المترتبة على الحروب الصليبية؟

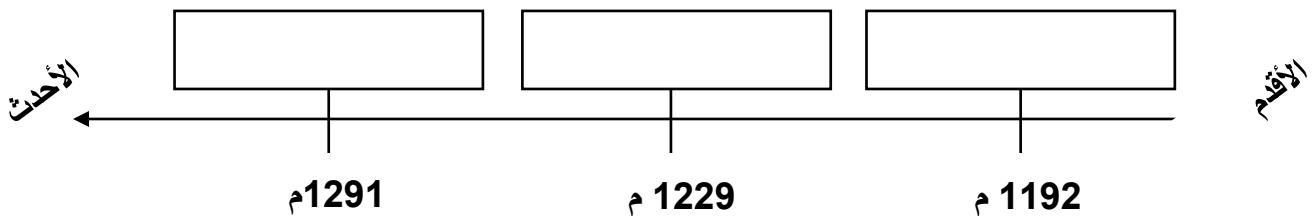
.....-1

.....-2

.....-3

3- رتب أحداث الحملات الصليبية الآتية على الخط الزمني ترتيباً صحيحاً من الأقدم للأحدث:

(تحرير عكا - صلح الرملة - اتفاقية يافا )







### 1- ما النتائج المترتبة على معركة حطين؟

- 1-.....
- 2-.....
- 3-.....

### 2- وضح نتائج الحملة الصليبية الثانية.

- 1-.....
- 2-.....
- 3-.....

### 3- قارن بين الحملة الصليبية الأولى والثانية من حيث النتائج.

وجه المقارنة	الاهداف	النتائج
الحملة الصليبية الأولى		
الحملة الصليبية الثانية		



قسم	الدراسات الاجتماعية	الصف السابع	الأسبوع	السادس عشر
الوحدة	الوحدة الخامس: الاخطار التي واجهت الدولة العباسية الدرس الثاني: الخطر المغولي	التاريخ	2024 / 4/25-21 م	
الاسم		الشعبة	1 2	

## أولاً: الاختيار من متعدد:

اختر الإجابة الصحيحة بوضع علامة (x) في المربع المقابل لها:-

توحد المغول على يد قائدهم:

1

كتبغا

هولاكو

بركة خان

جنكيز خان

أول المناطق الإسلامية التي استولى عليها المغول هي:

2

بلخ

دمشق

خوارزم

خراسان

القائد الذي قضى على الخطر المغولي هو:

3

الظاهر بيبرس

سيف الدين قطز

الصالح نجم الدين

محمد بن قلاوون



ثانياً: الأسئلة المقالية: أجب عن الآتي:

1- وضح أسباب غزو المغول للعالم الإسلامي.

.....-1

.....-2

.....-3

2- وضح نتائج معركة عين جالوت.

.....-1

.....-2

.....-3

3- أكمل الجدول الآتي عن ( معركة عين جالوت ) عام 658هـ-1260م:

طرفي المعركة	
اسم قائد المسلمين	
نتيجة المعركة	



4- بم تفسر كانت الخلافة العباسية في بغداد مهية للسقوط على يد المغول؟

.....-1

.....-2

.....-3

5- قارن بين معركتي حطين وعين جالوت من حيث أطراف الصراع ونتائجها على الدول الإسلامية:

وجه المقارنة	معركة حطين	معركة عين جالوت
أطراف الصراع	1 -	1 -
	2 -	2 -
نتائجها على الدول الإسلامية	1 -	1 -



قسم	الدراسات الاجتماعية	الصف السابع	الأسبوع	السابع عشر
الوحدة	الوحدة السادسة: الحقوق والحريات الدرس الأول: الحقوق والواجبات	التاريخ	2024 / 5/2-4/28 م	
الاسم		الشعبة	1 2	

## أولاً: الاختيار من متعدد:

اختر الإجابة الصحيحة بوضع علامة (x) في المربع المقابل لها:-

تكفل الدولة الحقوق لمواطنيها عن طريق إصدار:

1

النشرات

☐

النشرات

☐

السندات

☐

التشريعات

☐

المؤسسة التعليمية الوطنية للتعليم العالي في دولة قطر جامعة:

2

قطر

☐

تكساس

☐

فريجينيا

☐

شمال الأطلنطي

☐

حماية المال العام تتحقق من خلال:

3

احترام الدستور

☐

الدفاع عن أمن الوطن

☐

الاعتزاز بالزي الوطني

☐

المحافظة على الحدائق العامة

☐



حق الفرد في أن يفعل ما لا يضر بالآخرين " يشير التعريف السابق إلى

مفهوم:

الحرية

الحقوق

الدستور

الواجبات

4

يُعد من الآداب العامة والتقاليد الوطنية في دولة قطر:

احترام الدستور

التقيد بقوانين المرور

الدفاع عن أمن الوطن

الاعتزاز بالزي الوطني

5

ثانياً: الأسئلة المقالية: أجب عن الآتي:

1- عدد الحقوق التي كفلها الدستور القطري للمواطن؟

.....-1

.....-2

.....-3



## 2- اذكر طرق المحافظة على الممتلكات العامة.

- 1-.....
- 2-.....
- 3-.....

## 3- قارن بين القانون والدستور من حيث المفهوم؟

	القانون
	الدستور



قسم	الدراسات الاجتماعية	الصف السابع	الأسبوع	الثامن عشر
الوحدة	الوحدة السادسة: الحقوق والحريات الدرس الثاني: الحريات المدنية	التاريخ	2024 / 5 / 9-5 م	
الاسم		الشعبة	1 2	

## أولاً: الاختيار من متعدد:

اختر الإجابة الصحيحة بوضع علامة (x) في المربع المقابل لها:-

"حق الفرد في أن يفعل ما لا يضر بالآخرين" يشير التعريف السابق الى

مفهوم:

الحرية

القانون

الدستور

تنظيم السلطات

1

## 1- وضح طرق الدفاع عن الوطن.

.....-1

.....-2

.....-3

## 2- وضح أهمية الالتزام بالقوانين على المجتمع.

.....-1

.....-2

.....-3





3- عدد ثلاث من الحريات التي كفلها الدستور القطري.

- 1-.....
- 2-.....
- 3-.....

4- قارن بين الحقوق والواجبات من حيث المفهوم:

الحقوق	
الواجبات	

5- اذكر ثلاث من واجبات المواطن في الدستور القطري.

- 1-.....
- 2-.....
- 3-.....

6- عدد ثلاث من الحريات التي أكد عليها الدستور القطري.

- 1-.....
- 2-.....
- 3-.....